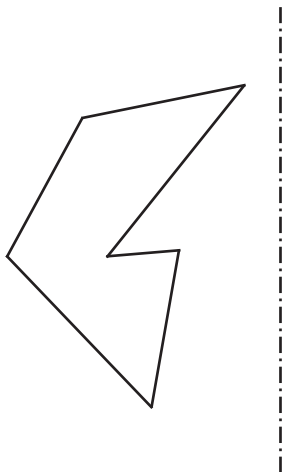
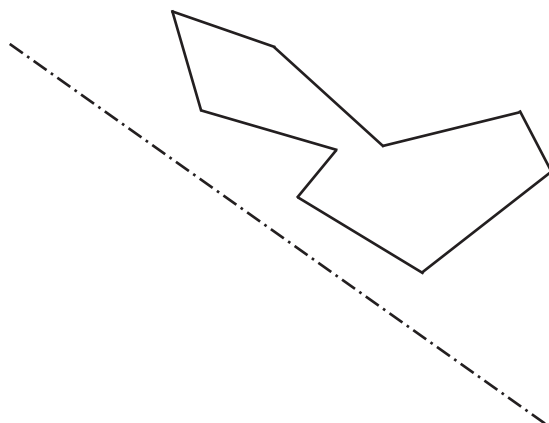


## SIMETRÍA AXIAL

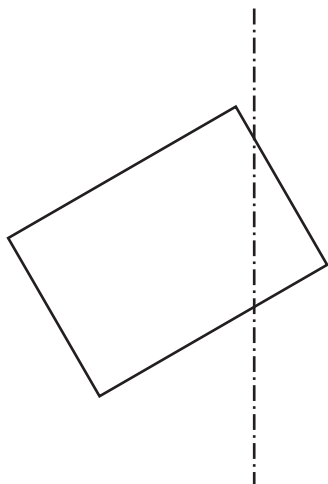
1. Traza la figura simétrica a la dada respecto al eje de simetría dibujado.



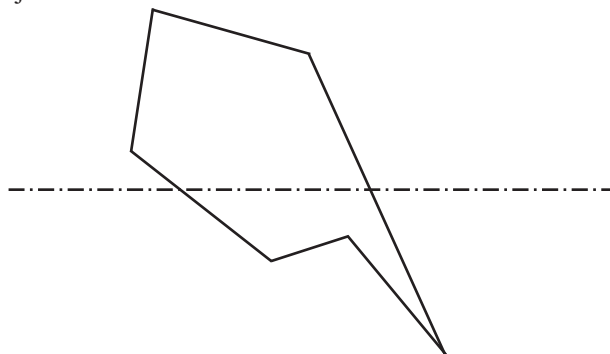
2. Traza la figura simétrica a la dada respecto al eje de simetría dibujado.



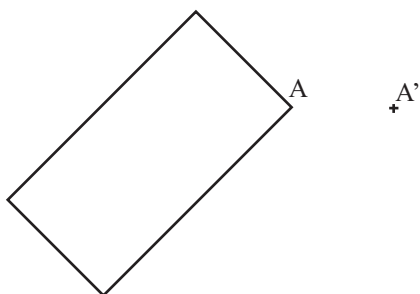
3. Traza la figura simétrica a la dada respecto al eje de simetría dibujado.



4. Traza la figura simétrica a la dada respecto al eje de simetría dibujado.



5. Halla el eje de simetría y la figura simétrica a la dada.



6. Halla el eje de simetría y la figura simétrica a la dada.

